

74.26/

004

А.О. Орг, Н.Г. Белицкая

ФГОС

# ОЛИМПИАДЫ

по предмету

# ОКРУЖАЮЩИЙ МИР

2  
КЛАСС



ЭКЗАМЕН®

# СОДЕРЖАНИЕ

Предисловие .....	5
Вариант 1 .....	7
Вариант 2 .....	9
Вариант 3 .....	11
Вариант 4 .....	13
Вариант 5 .....	15
Вариант 6 .....	17
Вариант 7 .....	19
Вариант 8 .....	21
Вариант 9 .....	23
Вариант 10 .....	25
Вариант 11 .....	27
Вариант 12 .....	29
Вариант 13 .....	31
Вариант 14 .....	33
Вариант 15 .....	35
Вариант 16 .....	37
Вариант 17 .....	39
Вариант 18 .....	41
Вариант 19 .....	43

Вариант 20 .....	45
Вариант 21 .....	47
Вариант 22 .....	49
Вариант 23 .....	51
Вариант 24 .....	53
Вариант 25 .....	55
Вариант 26 .....	57
Вариант 27 .....	59
Вариант 28 .....	61
Вариант 29 .....	63
Вариант 30 .....	65
Вариант 31 .....	67
Вариант 32 .....	69
Вариант 33 .....	71
Вариант 34 .....	73
Вариант 35 .....	75
Вариант 36 .....	77
Вариант 37 .....	79
Вариант 38 .....	81
Вариант 39 .....	83
Вариант 40 .....	85
Ответы .....	87

# ПРЕДИСЛОВИЕ

Как известно, основной формой обучения в образовательном учреждении является урок. В настоящее время стало актуальным проведение внеклассных занятий, внеурочных мероприятий, призванных систематизировать и углублять знания, формировать умения, совершенствовать навыки. Одной из форм такой деятельности является олимпиада по предметам.

Олимпиада — это и соревнование, и праздник. Ученики школы первой ступени образования — самые благодарные слушатели и активные участники учебного процесса; они с энтузиазмом принимают участие в различных викторинах и конкурсах, публичных выступлениях и марафонах, в том числе и в предметных олимпиадах.

Проведение олимпиад в школе первой ступени образования не регламентируется никакими сроками, так как ещё нет практики обязательного участия детей в подобных мероприятиях. Нам видится, что целесообразно проводить школьные олимпиады по предметам в ноябре—декабре, привлекая к участию в них как можно больше желающих. Победители и призёры школьного тура олимпиады переходят к следующему этапу соревнования, проводящемуся, как правило, в январе—марте на муниципальном или окружном (районном) уровне.

По времени олимпиада не должна превышать одного урока (40—45 минут). При проведении олимпиады необходимо создать для учащихся комфортную и, может быть, даже праздничную атмосферу: чётко организовать работу, проследить за тем, чтобы задания были сформулированы понятным языком (с учётом возрастных психологических особенностей детей). Необходимо обязательно предупредить участников олимпиады, что они вправе выполнять задания не по порядку, а в удобном для них варианте. Если учитель раздаёт готовые варианты, куда участникам олимпиады необходимо вписать ответы, рекомендуется предложить школьникам достаточное количество листов для черновых записей своих рассуждений.

## Как оценивать задания

Необходимо заранее продумать критерии оценки каждого задания. Это, безусловно, зависит от сложности предложенных заданий. Если задание включает в себя несколько пунктов, то, на наш взгляд, необходимо оценивать ответ на каждый пункт вопроса. Правильный ответ, требующий применения знаний только на базовом уровне, оценивается 1 баллом. Если требуется подключить знания, выходящие за пределы школьной программы («включить воображение»),

опереться на логику в рассуждении, то ответ на подобный вопрос можно оценить 2 баллами. В том случае, если ответ требует нестандартного размышления, то данный труд оценивается более высоким баллом (3 и выше).

Победителями следует считать учащихся, которые набрали наиболее высокий балл, ответивших на наибольшее количество вопросов.

Призёрами могут быть учащиеся, которые не смогли дать правильный ответ на некоторые задания, но они принимали активное участие в мероприятии.

Подведение итогов не следует откладывать на длительное время. Методическим комиссиям необходимо провести анализ допущенных ошибок. Победители и призёры будут поощрены на уроке или на занятии предметного кружка или объединения грамотами, книгами, которые учащиеся смогут использовать в качестве познавательного дополнительного материала. Результаты олимпиад желательно красиво оформить, вывесить на информационном стенде, посвящённом делам школы во внеклассной и внешкольной деятельности.

Если учитель предпочитает самостоятельно разрабатывать задания олимпиад, то подобная инициатива должна только приветствоваться. Применяя Федеральный компонент государственного стандарта образования, учитель может подобрать задания разного уровня сложности в соответствии с требованиями возрастных психологических особенностей младших школьников. К созданию заданий для олимпиад можно привлечь учащихся средней и старшей школы, которые вполне справятся с этой увлекательной и ответственной работой.

Данное издание представляет собой варианты олимпиад для проведения школьных туров по предмету «Окружающий мир».

Сборник состоит из занимательных и нестандартных заданий, которые подобраны в соответствии с возрастными психологическими особенностями школьников, требованиями программы для школ первой ступени образования и Федерального компонента государственного стандарта общего образования.

## Вариант 1

1. Какое изделие было частью живой природы?  
а) кирпичный дом                      в) льняная юбка  
б) глиняная кружка                    г) стальной нож
2. Какое растение выращивают люди для использования в пищу?  
а) берёза                                      в) астра  
б) редис                                        г) одуванчик
3. Какой признак является основным у птиц?  
а) это летающие животные  
б) это травоядные животные  
в) тело этих животных покрыто перьями
4. Подчеркни в каждом ряду «лишнее» слово.  
а) ель, яблоня, сосна, лиственница  
б) тюльпан, нарцисс, крокус, астра  
в) лилия, гладиолус, черника, мак
5. Какие учёные занимаются вопросами охраны окружающего мира?  
а) биологи  
б) экологи  
в) зоологи
6. Что делает страус в случае опасности?  
а) быстро убегает  
б) прячет голову в песок  
в) пытается защищаться

7. Отгадай загадку, запиши отгадку.

Всю ночь летает —

Мышей добывает.

А станет светло —

Спать летит в дупло.

---

8. Определи время года по данному тексту.

Солнце скрыто за тучами. Косяк журавлей, курлыча, пролетает над лесом. Только ели и сосны радуются своему зелёному наряду.

а) зима

в) лето

б) весна

г) осень

9. Под елями зимой остаётся много остатков от обеда клестов: чешуйки и семена шишек. Какое значение имеют для ели чешуйки и семена?

а) удобряют почву

б) способствуют размножению растений

в) являются пищей для животных

10. Ответь на вопрос из сказки.

Какое огородное растение при определённом волшебном воздействии может стать каретой?

---

1. Запиши название самой маленькой птицы.  

---
2. Выбери приметку, не относящуюся к осени.
  - а) воздух становится холоднее
  - б) возвращаются домой перелётные птицы
  - в) трава увяла, пожелтела
  - г) часто идут холодные морозящие дожди
3. Зачем нужно сохранять правильную осанку?
  - а) для занятий спортом
  - б) для занятий танцами
  - в) для правильного развития организма
  - г) для хорошего сна
4. Ты в доме один, в дверь позвонили. Как ты поступишь?
  - а) Дверь не открою. Скажу, что один.
  - б) Дверь не открою, попрошу прийти позже, когда родители будут дома.
  - в) Скажу, что сейчас позову папу и пойду звонить в полицию по телефону 02.
  - г) Дверь сразу открою.
5. Вставь в предложения пропущенные числа.
  - а) У птиц \_ ноги, а у насекомых \_ ног.
  - б) У птиц \_ крыла, а у насекомых — \_ или \_ крылышка.



6. Закончи предложение.

На месте цветов образуются \_\_\_\_\_.

- а) листья
- б) плоды с семенами
- в) почки

7. Отгадай загадку, запиши отгадку.

Гость гостил, мост мостил,  
Без пилы, без топора мост вымостил.

---

8. Кто из перечисленных животных не является птицей?

- а) пингвин
- б) страус
- в) курица
- г) летучая мышь
- д) индюк
- е) сова

9. Чем стрекочет кузнечик?

- а) трением ноги о крыло
- б) трением крыла о крыло
- в) трением ноги об ногу
- г) трением надкрыльев

10. Какая река на земле самая длинная?

- а) Нил
- б) Амазонка
- в) Волга

1. К какому виду транспорта относится метро?
 

а) наземный	в) воздушный
б) подземный	г) водный
  
2. На поляне появились красивые весенние первоцветы. Как ты поступишь?
  - а) соберу большой букет
  - б) вырву всё, чтобы не засорять поляну
  - в) соберу для коллекции
  - г) оставлю расти
  
3. Подчеркни «лишнее» животное.
  - а) комар, муравей, паук, бабочка
  - б) щука, рак, карась, сельдь
  
4. Какое общее свойство есть у песка, льда и снега?
 

\_\_\_\_\_
  
5. Впиши пропущенные слова.
  - а) корова, \_\_\_\_\_, телёнок
  - б) овца, \_\_\_\_\_, \_\_\_\_\_
  - в) \_\_\_\_\_, \_\_\_\_\_, цыплёнок
  
6. Отгадай загадку, запиши отгадку.
 

В руках скользит и пенится,  
Отмыть меня не ленится.

\_\_\_\_\_

7. Какое время года описано в тексте?

Низкое солнышко светит, но не греет. Все деревья покрыты сверкающим в холодных лучах светила серебром. У детей России такие забавы, о которых африканцы только слышали, но играть не могут.

- а) лето
- б) осень
- в) зима
- г) весна

8. Угадай птицу, о которой говорится в загадке.

Он живёт у нас давно.

Приходит часто под окно.

Берёт он хлеб из наших рук:

Совсем ручной у нас ...

---

9. Отметь группу, в которой перечислены только овощные культуры.

- а) огурец, помидор, капуста
- б) ячмень, огурец, виноград
- в) клубника, малина, вишня
- г) рис, редис, абрикос

10. У какой птицы мешок под клювом?

---

1. Отгадай загадку, запиши отгадку.

Он в самом омуте живёт,  
Хозяин глубины.

Имеет он огромный рот,  
А глазки чуть видны.

---

2. Когда плачут берёзы?

---



---

3. Отметь то, что относится к общественным учреждениям.

а) улица

в) жилой дом

б) город

г) библиотека

4. Какое растение выращивают люди для использования в пищу?

а) осина

б) ландыш

в) тюльпан

г) картофель

5. Запиши понятие к данному определению.

Воображаемая линия, которая опоясывает Земной шар и делит его на Северное и Южное полушария, — это \_\_\_\_\_.

6. Отгадай загадку, запиши отгадку.

Гладкое, мохнатое,  
В клетку, полосатое.  
Воду всю в себя вбирает,  
Нос и руки вытирает.

---

7. Почему погибает лес, когда вырубают дуплистые деревья?

---

8. Какое дерево цветёт позже всех?

- а) липа
- б) берёза
- в) рябина

9. Определи вещество по описанию.

Непрозрачный, белый, твёрдый, сладкий, быстро тает в тёплой воде — это \_\_\_\_\_.

10. Какая из перечисленных профессий не связана с транспортом?

- |             |               |
|-------------|---------------|
| а) водитель | г) диспетчер  |
| б) машинист | д) лесник     |
| в) лётчик   | е) стюардесса |

1. Какая из птиц является певчей?
 

а) ворона	в) жаворонок
б) чайка	г) воробей
  
2. Какое животное вылупляется из яйца? Укажи верный ответ.
 

а) черепаха	
б) мышь	
в) жаба	
  
3. Что такое Красная книга?
 

а) книга в яркой красной обложке	
б) книга учёта всех животных	
в) книга о редких и исчезающих растениях и животных	
  
4. Почему на Земле сменяются день и ночь?
 

а) Земля имеет шарообразную форму.	
б) Земля вращается вокруг своей оси.	
в) Земля вращается вокруг Солнца.	
  
5. Отгадай загадку, запиши отгадку.  
 На лугу живёт скрипач,  
 Носит фрак и ходит вскачь.
 

---
  
6. Укажи подходящее жилище для проживания лошади.
 

а) ферма	в) курятник
б) конюшня	г) кошара

7. Растениям плоды нужны для того, чтобы...
- а) ими питались животные
  - б) быть красивыми
  - в) распространять созревшие семена
  - г) их выращивали люди
8. Укажи пассажирский транспорт.
- а) автобус
  - б) самосвал
  - в) теплоход
  - г) бензовоз
9. Укажи признаки диких животных.
- а) живут в природе
  - б) не могут жить без помощи человека
  - в) могут жить без помощи человека
  - г) сами не добывают себе пищу
  - д) сами добывают себе пищу
  - е) сами строят гнёзда, норы
  - ж) живут в помещениях, построенных человеком
10. Узнай растение по описанию.

Этот цветок похож на маленькое солнышко с золотыми лепестками-лучами. Всё лето цветёт цветок, а созревшие его семена собраны в лёгкий пушистый шарик. Дунешь на шарик — поплывут, полетят в воздухе лёгкие семена.

---

1. Кто и что готовит на зиму? Соедини.

медведи

мёд

бобры

зерно

мыши

накапливают жир

белки

ветки деревьев

пчёлы

грибы, орехи

2. Под дубом осенью много желудей. Укажи, какое значение для дуба имеет большое количество желудей.

а) подкормка животных — жителей леса

б) удобрение для роста растений

в) распространение семян дуба

3. Укажи, где глубина снега больше.

а) на склоне холма

в) в поле

б) среди деревьев, в лесу

4. Определи время года по данному тексту.

Солнечные лучи жарко греют землю. В птичьих гнёздах появилось потомство, и родители с трудом успевают наловить для них насекомых. В малиннике медведь проверяет, не созрели ли его любимые ягоды.

а) зима

в) лето

б) весна

г) осень



5. Почему нельзя уничтожать ядовитые грибы?
- а) если сварить, то яд исчезнет
  - б) будет некрасиво в лесу
  - в) некоторые грибы ядовиты только для человека, а для животных полезны
6. Кто трижды рождается прежде, чем стать взрослым?
- а) лягушка
  - б) бабочка
  - в) птица
7. Когда плачут берёзы?
- а) весной
  - б) зимой
  - в) летом
  - г) осенью
8. Отгадай загадку, запиши отгадку.
- У дверей, на полочке  
С деревянной спинкой,  
Ёжик в сто иголочек  
Чистит нам ботинки.
- 

9. Какие из перечисленных растений являются лиственными?
- а) пихта
  - б) лиственница
  - в) можжевельник
  - г) ясень
10. Укажи неядовитую змею.
- а) уж
  - б) гадюка
  - в) кобра

1. Что такое прополис?
  - а) светящаяся краска
  - б) замазка для окон
  - в) лекарство
  
2. Укажи примету, не относящуюся к лету.
  - а) солнце жаркое
  - б) воздух знойный, душный
  - в) улетают перелётные птицы
  - г) повсюду изобилие разнообразных насекомых
  - д) часто гремят грозы и идёт дождь
  
3. Как называются листья хвойных деревьев?
  - а) иголки
  - б) колючие листочки
  - в) хвоинки
  
4. Как надо поступить, если встретишь в лесу красиво цветущее растение?
  - а) сорвать
  - б) зарисовать
  - в) сфотографировать
  
5. Каких животных называют дикими?
  - а) которые нападают на людей
  - б) которые живут самостоятельно, без помощи человека
  - в) которые не поддаются дрессировке

6. Какие птицы выводят птенцов зимой?
- а) клесты
  - б) куропатки
  - в) вороны
  - г) тетерева

7. Отгадай загадку, запиши отгадку.

Разных три имеет глаза,  
Но откроет их не сразу:  
Если глаз откроет красный —  
«Стоп! Идти нельзя: опасно!»,  
Жёлтый глаз — «Подожди!»,  
А зелёный — «Проходи!»

---

8. Чем бабочки добывают нектар?

- а) усиками
- б) лапками
- в) хоботком

9. Где возник обычай украшать своё жилище живыми домашними растениями?

- а) в тёплых странах
- б) в странах с холодной зимой
- в) в бедных странах
- г) в богатых странах

10. Какая из перечисленных профессий не связана с сельским хозяйством?

- а) тракторист
- б) доярка
- в) комбайнер
- г) аптекарь

1. Отгадай загадку, запиши отгадку.

Он в мундире ярком.

Шпоры — для красы.

Днём он забияка,

Поутру — часы.

2. Укажи признаки зимы.

а) появление детёнышей у зверей

б) снегопад

в) цветение ольхи и вербы

г) мороз

3. Впиши пропущенные слова.

а) кабан, \_\_\_\_\_, поросёнок

б) \_\_\_\_\_, кобыла, \_\_\_\_\_

в) селезень, \_\_\_\_\_, \_\_\_\_\_

4. К какой группе относятся дорожные знаки в красном треугольнике?

а) предупреждающие

б) предписывающие

в) запрещающие

г) указывающие

5. Какой вид транспорта относится к грузовому?

а) троллейбус

в) самосвал

б) такси

г) автобус

6. Запиши животное, у которого есть следующие признаки.

Четыре ноги, хвост, тело покрыто роговыми чешуйками — \_\_\_\_\_.

7. Соедини органы чувств с признаками, которые помогают их определить.

зрение

слух

обоняние

осязание

вкус

шершавый

красный

резкий (запах)

тихий

кислый

8. Отгадай загадку, запиши отгадку.

Скачет зверушка, не рот, а ловушка.  
Попадёт в ловушку и комар, и мушка.

---

9. Красный сигнал светофора располагается...

- а) под жёлтым                      в) под зелёным  
б) над жёлтым                      г) над зелёным

10. Выбери правильное утверждение.

- а) Все растения осенью сбрасывают листву.  
б) Все хвойные растения осенью сбрасывают листву.  
в) Лиственные деревья и лиственница сбрасывают листву осенью.

1. Закончи предложение.

Видимое глазом пространство, ограниченное линией, где небо как бы соединяется с землёй, — это \_\_\_\_\_.

2. Укажи стрелками, какие понятия помогают ориентироваться в пространстве, а какие во времени.

север	<b>пространство</b>	неделя	
верх		юго-запад	
час		секунда	
налево		назад	
месяц		<b>время</b>	год
ВОСТОК			ВНИЗ

3. Укажи причину изменения температуры воздуха в течение года.

- а) вращение Земли вокруг своей оси
- б) изменение высоты Солнца над горизонтом
- в) изменение вида осадков
- г) вращение Земли вокруг Солнца

4. Отгадай загадку, запиши отгадку.

Чёрен, да не ворон  
Рогат, да не бык,  
Шесть ног без копыт. \_\_\_\_\_

5. Чем покрыта кожа млекопитающих? Укажи верный ответ.

- а) перьями      б) шерстью      в) чешуёй

6. Верны ли данные утверждения?

1. Крокодильчик появляется из яйца, как и страусёнок.

2. Крокодил — птица.

- а) да      б) нет

7. Что надо делать, если увидел змею? Укажи правильный ответ.

а) отшвырнуть змею ногой

б) ударить змею палкой

в) подождать, пока змея уползёт

8. Укажи подходящий дом для проживания ягнёнка.

а) конюшня

в) свинарник

б) ферма

г) овчарня

9. Как можно назвать указанные действия?

Принимать прохладный душ, обтираться холодной водой, гулять.

---

10. К какой группе относятся знаки дорожного движения, обведённые красным кружком?

а) предупреждающие

в) указывающие

б) предписывающие

г) запрещающие

1. Что обозначает красный сигнал светофора?  
Выбери верный ответ.
  - а) внимание
  - б) светофор сломан
  - в) движение запрещено
  
2. Кого зовут листопадничками?

---

3. Какая птица к зиме белеет?
  - а) клёст
  - б) королёк
  - в) куропатка белая
  
4. Какие растения называют культурными?
  - а) съедобные
  - б) красивые
  - в) полезные человеку
  - г) выращенные человеком
  
5. Какая из перечисленных профессий не связана со строительством?
 

а) крановщик	в) бетонщик
б) стекольщик	г) автослесарь
  
6. Какое растение люди выращивают для использования в пищу?
 

а) огурец	в) ель
б) клевер	г) рябина



7. Какая птица может ходить под водой?
- а) рябчик
  - б) оляпка
  - в) ворона
8. Почему зимой холодно?
- а) Солнце поднимается высоко над землёй
  - б) Солнце поднимается низко над землёй
  - в) дуют холодные ветры
  - г) выпадает снег
9. Что такое компас?
- а) прибор для определения температуры
  - б) прибор для определения направления ветра
  - в) прибор для определения сторон горизонта
  - г) прибор для определения расстояний
10. Отгадай загадку, запиши отгадку.
- Долгорукий старичок  
В уголке сплёл гамачок.  
Приглашает: «Мошки!  
Отдохните, крошки!»
-

1. Узнай птицу по описанию, запиши её название.

Эти птицы с красной грудкой появляются у нас с первым снегом. Питаются они ягодами рябины, семенами клёна. С наступлением весны улетают в более северные края.

---

2. Что такое линька у животных?

- а) залегание в спячку
- б) сбрасывание шерсти
- в) обрастание шерстью
- г) изменение густоты и окраски шерсти

3. К какому виду транспорта относится автобус?

- а) наземный
- б) водный
- в) подземный
- г) воздушный

4. Что относится к физическому труду?

- а) чтение книги
- б) уборка квартиры
- в) обед
- г) сон

5. Укажи группу, в которой перечислены кустарники.

- а) помидор, салат, петрушка
- б) пшеница, овёс, огурец
- в) крыжовник, смородина, роза

6. Чем кормит детёнышей дельфин?
- а) молоком
  - б) травой
  - в) рыбой
7. Что представляет особую опасность?
- а) провод, включённый в розетку
  - б) длинный провод
  - в) оголённый провод
  - г) короткий провод

8. Отгадай загадку, запиши отгадку.

Мордочка усатая,  
Шубка полосатая,  
Часто умывается.  
А с водой не знается.

---

9. Какая наука занимается охраной и укреплением здоровья человека?
- 

10. Верно ли данное высказывание?

У тритона, как у мыши, четыре ноги и хвост. Но кожа тритона ничем не покрыта, он не кормит тритончиков молоком. Тритон — земноводное.

а) да

б) нет

1. Какое животное является древним пресмыкающимся?
- а) мамонт
  - б) гигантская саламандра
  - в) стегозавр

2. Подчеркни в каждом ряду «лишний» объект.
- а) комар, муравей, паук, бабочка
  - б) щука, рак, карась, сельдь

3. Отгадай загадку, запиши отгадку.

Очень добродушная,  
Я мягкая, послушная,  
Но когда я захочу,  
Даже камень источу.

---

4. Какое насекомое относится к жукам?

- а) комар
- б) оса
- в) короед

5. Выбери весенние явления, происходящие в живой природе.

- а) половодье, таяние снега
  - б) первая гроза
  - в) Солнце поднимается всё выше
  - г) появляются первые цветы, возвращаются перелётные птицы
-

6. Чего нет у насекомых?
- а) хвоста
  - б) усиков
  - в) брюшка
7. Что нужно делать, если, дойдя до середины улицы, ты видишь приближающуюся машину?
- а) бежать вперёд
  - б) не спеша идти вперёд
  - в) бежать назад
  - г) ждать на середине
8. Как зимой охотится лиса?
- а) ловит птиц
  - б) устраивает засады на кабанов
  - в) раскапывает снег и ловит мышей
9. У какой кисочки на ушах кисточки?
- 

10. Узнай растение по описанию и запиши название.

Ещё снег не успел сойти, а на пригретых местах появляются жёлтые цветки с чешуйчатыми стебельками. И только когда растение отцветёт и ветер унесёт лёгкие плодики с летучками из волосков, начинают разворачиваться крупные листья.

---

1. Отгадай загадку, запиши отгадку.  
 В ванной круглое стекло,  
 Отражает всех оно.  
 В него смотрятся с утра  
 Мама, папа и сестра.

---

2. Как зимуют мыши-полёвки?
  - а) прячутся под снегом
  - б) прячутся на деревьях
  - в) прячутся среди кустарников
3. Что нельзя делать без ведома взрослых?
  - а) смотреть телевизор
  - б) делать уборку
  - в) принимать лекарства
4. Укажи естественный водоём.
 

а) водохранилище	в) пруд
б) канал	г) озеро
5. Что такое космодром?
  - а) место, откуда осуществляется запуск космического корабля
  - б) место, откуда ведётся наблюдение за космическими кораблями
  - в) место, откуда ведётся управление космическими кораблями

6. Укажи группу, в которой перечислены изделия из древесины.
- а) перчатки, тарелка, горшок
  - б) автомобиль, вилка, ножницы
  - в) книга, скамейка, шкаф
7. У каких птиц появляются птенцы в самые лютые морозы?

- 
8. Кожа каких животных покрыта роговыми чешуйками?
- а) насекомых
  - б) птиц
  - в) пресмыкающихся
9. В чём причина смены времён года на Земле?
- а) Земля имеет шарообразную форму.
  - б) Земля вращается вокруг Солнца.
  - в) Земля вращается вокруг своей оси.

10. Определи по описанию время года.

Все леса и поля одеты в красивый наряд. Над множеством цветов вьются шмели, пчёлы, бабочки. В высокой траве стрекочут кузнечики. Важно шествует по лесу лось.

- а) зима
- б) лето
- в) весна
- г) осень

1. Определи время года по описанию.

Искрящийся наст переливается всеми цветами радуги. Вот пробежал в своей белой шубке заяц. За ним гонится рыжая лисица. Спит в берлоге лесной богатырь — медведь.

- а) зима
- б) весна
- в) лето
- г) осень

2. Что помогает дятлу доставать насекомых из трещин в коре деревьев?

- а) строение ног
- б) строение глаз
- в) строение клюва

3. Определи вещество по его свойствам.

Прозрачный, бесцветный, твёрдый, скользкий, в тепле тает медленно — это \_\_\_\_\_.

4. Распредели животных по группам.

Паук-крестовик, богомол, кузнечик, муха, оса, паук-птицеед, скорпион, бабочка-белянка.

паукообразные	насекомые



5. Чем питаются бабочки?
- а) жуками
  - б) нектаром
  - в) комарами
6. Укажи, верны ли данные утверждения.
1. У саламандры, как у ящерицы, две пары ног и длинный хвост.
  2. Саламандра — пресмыкающееся.
- а) да
  - б) нет
7. Какая птица в мире самая большая?
- а) орёл
  - б) страус
  - в) королёк
8. Каким цветом обозначены на карте океаны, моря, озёра и реки?
- а) зелёным
  - б) коричневым
  - в) жёлтым
  - г) голубым
9. Среди перечисленных вещей укажи вещи, изготовленные из шерсти.
- а) свитер, шарф, варежки
  - б) ремень, сапог, пряжка
  - в) шапка-ушанка, шуба
10. Жёлтый сигнал светофора располагается...
- а) над красным
  - б) над зелёным
  - в) под красным
  - г) под зелёным

1. Как называется крыша, о которой идёт речь в данном предложении? Запиши ответ.

Где рыбам зиму жить легко,  
Там крыша — толстое стекло.

---

2. Распредели предметы на две группы.

Расчёска, мочалка, зубная щётка, мыло, полотенце, шампунь, зубная паста, крем для обуви, щётка для обуви, щётка для одежды.

предметы личной гигиены	предметы, общие для всей семьи
<hr/>	<hr/>
<hr/>	<hr/>
<hr/>	<hr/>
<hr/>	<hr/>
<hr/>	<hr/>

3. Какой переход самый безопасный?

- |                   |                  |
|-------------------|------------------|
| а) «зебра»        | в) со светофором |
| б) на перекрёстке | г) подземный     |

4. Укажи группу, в которой перечислены культурные растения.

- а) лопух, тимофеевка, сосна
- б) кукуруза, кинза, овёс
- в) одуванчик, осока, ландыш

5. Какое из перечисленных насекомых не является жалящим?
- а) оса
  - б) шмель
  - в) шершень
  - г) бабочка
6. В каких случаях ядовитые животные нападают на человека?
- а) когда охотятся
  - б) когда у них плохое настроение
  - в) в порядке самозащиты
7. Что такое линия горизонта?
- а) Линия, где небо как бы сходится с земной поверхностью.
  - б) Линия на глобусе или карте.
  - в) Путь, по которому Солнце движется по небу.
8. Какая птица быстро бегает?
- а) страус
  - б) индюк
  - в) гусь
9. Что относится к общественным учреждениям?
- а) трамвай
  - б) театр
  - в) парк
  - г) посёлок
10. Отгадай загадку, запиши отгадку.  
В морях и реках обитает,  
Но часто по небу летает.  
А как наскучит ей летать,  
На землю падает опять.

1. Отгадай загадку, запиши отгадку.

Без рук, без ног,  
Под окном стучит,  
В избу просится.

---

2. Закончи предложение.

Совокупность всех неровностей земной поверхности называется \_\_\_\_\_.

3. У какой птицы самые густые перья?

- |               |                 |
|---------------|-----------------|
| а) у страуса  | в) у альбатроса |
| б) у пингвина | г) у пеликана   |

4. Определи время года по описанию.

Солнце поднимается над горизонтом с каждым днём всё выше и выше. Его лучи ласково пригревают землю. Вот-вот из набухших почек проглянут клейкие листочки.

- |          |          |
|----------|----------|
| а) зима  | в) лето  |
| б) весна | г) осень |

5. Сколько ног у насекомых?

- |      |      |
|------|------|
| а) 2 | в) 4 |
| б) 6 | г) 8 |

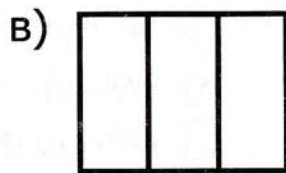


6. Как зимой питается кабан?
- а) обдирает кору с кустарников
  - б) стряхивает шишки с деревьев
  - в) выкапывает из-под снега орехи, жёлуди, траву, мышей-полёвок, насекомых
7. Выбери продукты животного происхождения.
- а) хлеб, лук, помидор
  - б) яблоко, крупа, горох
  - в) картофель, морковь, тыква, дыня
  - г) яйцо, сыр, сметана
8. Что такое культура общения?
- а) взаимная вежливость
  - б) грамотная речь
  - в) умение красиво говорить
9. Какие карты называют физическими?
- а) карты, окрашенные в разные цвета
  - б) карты, на которых разными цветами показаны разные страны
  - в) карты с изображениями равнин, морей, гор, рек и других природных объектов
  - г) карты, на которых изображён весь мир
10. Зелёный сигнал светофора располагается...
- а) под красным
  - б) над жёлтым
  - в) под жёлтым
  - г) над красным

1. Укажи, верно ли данное утверждение.

Лёд, пар, вода — три разных вещества.

- а) да
- б) нет

2. Определи, на каком рисунке изображён контур флага России. Раскрась флаг.



3. Чем покрыты тела у большинства зверей?

- а) кожей
- б) чешуёй
- в) перьями
- г) шерстью

4. Кто не использует собак для работы?

- а) полицейские
- б) пастухи
- в) северяне
- г) слепые
- д) цветоводы
- е) военные
- ж) учёные

5. Укажи группу, в которой не указаны внутренние органы.

- а) головной мозг, кишечник
- б) желудок, печень
- в) грудь, голова
- г) лёгкие, сердце

6. Определи по описанию время года.  
В лесах появляются первые проталинки.  
Скоро вернутся из тёплых краёв птицы. Всюду журчат радующие слух ручьи.
- а) зима
  - б) весна
  - в) лето
  - г) осень
7. Что из перечисленного не является учреждением культуры?
- а) музей
  - б) концертный зал
  - в) цирк
  - г) аптека
  - д) театр
  - е) библиотека
8. Как называются реки и ручьи, впадающие в другие водоёмы?
- а) истоки
  - б) притоки
  - в) протоки
  - г) потоки
9. Что такое холмы?
- а) возвышение на равнине
  - б) небольшая гора
  - в) углубление
  - г) специально насыпанная куча земли
10. Укажи хвойные деревья.
- а) клён
  - б) лиственница
  - в) берёза
  - г) дуб
  - д) осина
  - е) сосна

1. Отгадай загадку, запиши отгадку.

Я работаю в артели  
У корней лохматой ели.  
По буграм тащу бревно —  
Больше плотника оно.

---

2. У какой птицы поют самки и самцы?

- |              |               |
|--------------|---------------|
| а) у стрижа  | в) у грача    |
| б) у снегиря | г) у ласточки |

3. Какое земноводное имеет хвост?

- а) жаба  
б) саламандра  
в) лягушка

4. Почему божью коровку птицы не клюют?

---

5. Какая домашняя птица самая крупная?

- а) гусь  
б) курица  
в) индюк

6. Какую ящерицу называют сухопутным крокодилом?

---



7. Какая рыба плавает не горизонтально, а вертикально?
- а) рыба-меч
  - б) окунь
  - в) морской конёк
  - г) лосось
8. Выбери продукты растительного происхождения.
- а) мясо, сливочное масло
  - б) молоко, рыба, колбаса
  - в) петрушка, свёкла, гречка
  - г) котлета, брынза, сливки
9. Какое растение люди выращивают для использования в пищу?
- а) липа
  - б) клён
  - в) свёкла
  - г) купальница
10. Укажи фрукты.
- |             |            |
|-------------|------------|
| а) помидоры | г) огурцы  |
| б) капуста  | д) яблоки  |
| в) груши    | е) морковь |

1. Отгадай загадку, запиши отгадку.

Скачет зверушка —  
 Не рот, а ловушка.  
 Попадает в ловушку  
 И комар, и мушка.

---

2. К культурным растениям относятся...

- |              |             |
|--------------|-------------|
| а) берёза    | г) крапива  |
| б) тополь    | д) репейник |
| в) картофель | е) пшеница  |

3. Допиши определение.

Воображаемая линия, проходящая через центр планеты от полюса до полюса, — это

---

4. Какие птицы спят в воздухе?

- а) соколы
- б) стрижи
- в) колибри
- г) щеглы

5. Какими руками нельзя прикасаться к электроприборам, выключателям, розеткам?

- а) грязными
- б) мокрыми
- в) слабыми
- г) неловкими

6. Что такое половодье? Укажи верный ответ.
- а) таяние снега весной
  - б) весенние ручьи
  - в) разлив реки из-за таяния снега и льда
7. Что относится к физическому труду?
- а) чтение книг
  - б) просмотр телепередач
  - в) помощь в уборке квартиры
  - г) игры с домашними животными
8. Что такое профилактика заболеваний?
- а) лечение болезни
  - б) утренняя гимнастика
  - в) мероприятия по предупреждению заболеваний
9. Какая площадь находится в Кремле?
- а) Соборная
  - б) Красная
  - в) Калужская
  - г) Арбатская
10. Укажи «лишнее» слово.
- а) корова
  - б) медведь
  - в) лебедь
  - г) заяц

1. Что относится к физическому труду?
  - а) занятия в хоре
  - б) игра в футбол
  - в) прогулки
  - г) уборка класса
  
2. К какому виду транспорта относится самолёт?
 

а) водный	в) подземный
б) наземный	г) воздушный
  
3. Какое насекомое слышит ногами?
  - а) стрекоза
  - б) кузнечик
  - в) божья коровка
  - г) бабочка
  
4. Какая из перечисленных птиц зимующая?
 

а) ласточка	в) воробей
б) журавль	г) скворец
  
5. Отгадай загадку, запиши отгадку.  
 Старик-шутник  
 На улице стоять не велит,  
 За нос домой тянет.
 

---
  
6. Как называют блюдо из овощей и растение, листья которого едят в сыром виде?
 

---

7. Определи время года по описанию.

На небе ни облачка. Студёно. Солнце совсем не высоко над горизонтом, а лучи его светят ярко, но не греют. С зелёной красавицы ели клёст сбрасывает шишки: решил пообедать.

- |          |          |
|----------|----------|
| а) зима  | в) лето  |
| б) весна | г) осень |

8. Какие карты называются политическими?

- а) карты, на которых изображён весь мир
- б) карты, на которых разными цветами показаны разные страны
- в) карты с изображением морей, равнин, гор и других природных объектов
- г) карты, окрашенные в разные цвета

9. Запиши, как называются животные, имеющие следующие признаки.

Шесть ног, три части тела, четыре крылышка.

---

10. Какую работу выполняет сердце?

- а) управляет работой других органов
- б) гонит кровь по сосудам
- в) переваривает пищу

1. Как называется прибор, по которому определяются стороны горизонта?

\_\_\_\_\_

2. Определи вещество, запиши его название.

Прозрачное, бесцветное, твёрдое, хрупкое, не тает — это \_\_\_\_\_.

3. Укажи предметы живой природы.

- |            |           |
|------------|-----------|
| а) бревно  | г) змея   |
| б) дельфин | д) гранит |
| в) автобус | е) облако |

4. Кто из млекопитающих откладывает яйца?

- |          |            |
|----------|------------|
| а) кошка | г) кенгуру |
| б) акула | д) утконос |
| в) хомяк | е) кит     |

5. Чем покрыта кожа земноводного?

- а) чешуёй  
 б) шерстью  
 в) не имеет защитного покрова

6. Какая птица с наступлением весны улетает в более холодные края?

- |             |            |
|-------------|------------|
| а) воробей  | г) снегирь |
| б) ласточка | д) скворец |
| в) голубь   | е) дятел   |

7. Закончи предложения об изменениях в живой природе весной.

Всё громче раздаются в лесу и его окрестностях переливчатые трели \_\_\_\_\_.

Радуются птицы большому разнообразию проснувшихся \_\_\_\_\_.

8. Какую роль снег играет в жизни растений зимой?

- а) обеспечивает влагой
- б) защищает растения от замерзания
- в) защищает от насекомых

9. Что относится к общественным учреждениям?

- а) поликлиника
- б) троллейбус
- в) бульвар
- г) деревня

10. Какие птицы прилетают с юга первыми в среднюю полосу России?

- а) грачи
- б) тетерева
- в) клесты
- г) снегири

1. Отгадай загадку, запиши отгадку.

С бородой, а не старик,  
С рогами, а не бык,  
Доят, а не корова,  
С пухом, а не птица.

---

2. Что общего у лягушки, щуки и жабы?

- а) жабры для дыхания
- б) икра для размножения
- в) скользкая поверхность тела

3. Какую роль играет ива на берегу реки?

---

4. Определи время года по описанию.

Всё ярче и теплее светит ласковое солнышко. На проталинках распускаются первоцветы. Лесные звери чаще покидают свои жилища в поисках пищи. Очень скоро распустят свои серёжки берёза и ива.

Это \_\_\_\_\_

5. Какие грибы можно встретить в лесу в мае?

- а) белый, подосиновик
- б) опята, грузди
- в) рыжики, сыроежки
- г) сморчки, строчки



6. По какой причине чаще всего погибают птицы зимой?

---

7. Овощами являются...

- |             |            |
|-------------|------------|
| а) вишня    | г) капуста |
| б) апельсин | д) лимон   |
| в) огурец   | е) слива   |

8. Как называются плоды дуба?

- |            |            |
|------------|------------|
| а) орехи   | г) шишки   |
| б) каштаны | д) серёжки |
| в) жёлуди  |            |

9. Среди данных сезонных явлений в неживой природе найди те, что не являются зимними.

- |  |
|--|
| а) оттепель, гололедица, мороз, снегопад |
| б) ледоход, гроза, ливень                |
| в) появление сосулек, метель, изморозь   |

10. Запиши все части растения.

---

---

---

1. Зачем был построен Московский Кремль?
  - а) для красоты
  - б) как музей
  - в) для проживания там царя
  - г) для защиты от врагов
  
2. Что нужно сделать, чтобы воспользоваться компасом?
  - а) положить на ровную поверхность
  - б) повесить на стену
  - в) встряхнуть
  
3. Какой врач лечит животных?
 

а) терапевт	в) ветеринар
б) окулист	г) невропатолог
  
4. Укажи дикорастущие растения.
 

а) рожь	г) одуванчик
б) фасоль	д) виноград
в) арбуз	е) подорожник
  
5. В каждый ряд запиши по одному названию растения.
  - а) липа, клён, осина, \_\_\_\_\_
  - б) кедр, ель, лиственница, \_\_\_\_\_
  
6. Насекомым является...
 

а) воробей	в) паук
б) муравей	г) головастик

7. Какие животные делают запасы на зиму?

- а) белка
- б) лось
- в) волк
- г) пчела

8. Отгадай загадку, запиши отгадку.

И под старою сосною,  
Где склонился пень-старик,  
Окружён своей семьёю,  
Первый найден...

---

9. Кто собирает яблоки спиной?

- а) заяц
- б) белка
- в) ёж

10. Машино отчество — Сергеевна, её дедушку зовут Иван Васильевич. Как зовут папу Маши?

- а) Иван Сергеевич
- б) Сергей Иванович
- в) Сергей Васильевич

1. Закончи предложение.

Когда Луна оказывается между Землёй и \_\_\_\_\_, происходит \_\_\_\_\_ затмение.

2. Как называется замкнутое природное углубление на поверхности земли, заполненное водой?

---

3. Почему ёж и уж зимуют одинаково?

- а) они родственники
- б) им так теплее
- в) из-за отсутствия корма

4. Как можно назвать перечисленные действия одним словом?

Умывание, чистка зубов, мытьё рук перед едой, подстригание ногтей на руках и ногах.

---

5. Кто из названных животных весной и осенью меняет цвет шерсти?

- а) волк
- б) заяц
- в) лиса
- г) лось

6. Что относится к общественным учреждениям?

- а) автобус
  - б) музей
  - в) сквер
  - г) село
  - д) дача
  - е) такси
-

7. Определи время года по описанию.

Дни становятся короче. Солнце светит реже. Деревья роняют в лужи свои яркие наряды. Иногда морозящий дождь переходит в мокрый снег.

---

8. Почему грибы необходимо аккуратно срезать ножом?

- а) чтобы потом не чистить их дома
- б) чтобы оставить часть гриба зверям в лесу
- в) чтобы не повредить грибницу

9. Водоплавающей птицей является...

- а) утка
- б) ворон
- в) кукушка
- г) голубь
- д) журавль
- е) воробей

10. Как вести себя при встрече с осой?

- а) отмахиваться руками, пока не улетит
- б) убежать
- в) спокойно ждать, когда она улетит

1. Кустарниками являются...
 

а) лопух	в) клён
б) крыжовник	г) малина
  
2. К неживой природе относятся...
 

а) звезда	г) лисица
б) лошадь	д) ромашка
в) заяц	е) солнце
  
3. Найди группу, в которой перечислены дико-растущие растения.
  - а) картофель, роза, рожь
  - б) дуб, ромашка полевая, камыш
  - в) свёкла, петрушка, пшеница
  
4. Как нужно идти по загородному шоссе?
  - а) по обочине лицом к движущимся машинам
  - б) по обочине спиной к движущимся машинам
  - в) по середине дороги
  
5. Из каких частей состоит компас?
  - а) корпус, магнитная стрелка, предохранитель
  - б) стеклянная трубка с жидкостью и шкала
  - в) пружина и шкала со стрелкой
  - г) штырь и крутящаяся на ветру стрелка

6. Какая птица не летает?

- а) лебедь                      в) пингвин                      д) цапля  
б) аист                          г) кукушка                      е) голубь

7. Укажи вид животного, имеющего данные признаки.

Две ноги, два крыла, тело покрыто перьями.

- а) млекопитающее                      г) рыба  
б) земноводное                          д) птица  
в) пресмыкающееся

8. Соедини название животного с местом его обитания.

верблюд

водоём

треска

лес

лисица

пустыня

9. О чём нельзя сообщать незнакомым людям?

- а) дома нет хлеба  
б) дома нет оружия  
в) дома нет взрослых  
г) дома нет денег

10. В названии океанов найди неверный ответ.

- а) Тихий                                      г) Африканский  
б) Атлантический                          д) Индийский  
в) Северный Ледовитый

1. Отгадай загадку, запиши отгадку.

Всех перелётных птиц черней,  
Чистит пашню от червей,  
Целый день на пашне вскачь,  
И зовётся птица...

---

2. Что относится к физическому труду?

- а) уборка школьного двора
- б) просмотр телепередач
- в) занятия музыкой
- г) игра во дворе

3. Почему белые медведи и детёныши тюленей имеют одинаковую окраску?

- а) они родственники
- б) белая окраска помогает прятаться на снегу
- в) в белой шубке теплее

4. Что нужно сделать, чтобы сохранить органы зрения?

- а) нырять в мутную воду
  - б) защищать глаза от солнечных лучей
  - в) тереть глаза руками
  - г) как можно ниже наклоняться во время чтения и письма
-



5. Определи вещество по описанию.

Непрозрачный, белый, рыхлый, безвкусный, быстро тает в тепле.

---

6. Выбери примету, не относящуюся к весне.

- а) воздух становится день ото дня всё теплее
- б) Солнце поднимается всё выше и выше
- в) появляются первоцветы
- г) улетают в тёплые края перелётные птицы
- д) появляются насекомые

7. Сколько ног у пресмыкающихся?

- а) 0 или 2      б) 0 или 4      в) 6

8. Запиши название одного животного в каждую группу.

- а) лебедь, чайка, \_\_\_\_\_
- б) махаон, адмирал, \_\_\_\_\_

9. Продолжи предложение.

Чем ниже Солнце над горизонтом, тем воздух \_\_\_\_\_.

10. Кто не впадает в зимнюю спячку?

- а) медведь
- б) белка
- в) ёж

1. Что такое иллюминатор?
  - а) двигатель космического корабля
  - б) круглое окно на космическом корабле, самолёте или морском судне
  - в) входная дверь на космическом корабле
  
2. Какие из перечисленных видов транспорта не являются наземными?
  - а) автобус, электричка
  - б) троллейбус, трамвай
  - в) метро, теплоход, самолёт
  
3. Что обозначает ноль на шкале термометра?
  - а) границу между градусами тепла и градусами мороза
  - б) самую холодную температуру
  - в) наступление зимы
  
4. Запиши, как называются жилища животных.
  - а) лошадь (домашняя) — \_\_\_\_\_
  - б) ласточка — \_\_\_\_\_
  - в) бобёр — \_\_\_\_\_
  - г) муравей — \_\_\_\_\_
  
5. Как называется животное, имеющее данные признаки?  
 Четыре ноги, без хвоста, кожа без защитного покрова.  
 \_\_\_\_\_

6. К деревьям относятся...

- |             |              |
|-------------|--------------|
| а) сирень   | г) смородина |
| б) липа     | д) ель       |
| в) шиповник | е) крыжовник |

7. Узнай птицу по описанию.

Головка у этой птички в чёрной шапочке, спинка, крылья и хвост тёмные, а грудка ярко-жёлтая, будто в жёлтый жилетик нарядилась. Летом она питается жучками, червячками, а зимой, в бескормицу, ест всё: и разные зёрнышки, и крошки хлеба, и варёные овощи. Но больше всего охотница она до свежего несолёного сала.

---

8. Как весной поднимается Солнце над горизонтом по сравнению с зимой?

- а) ниже
- б) так же
- в) выше

9. Запиши, почему паук не насекомое.

---

---

10. Как называется природный фонтан воды?

---

1. Отгадай загадку, запиши отгадку.

Живёт в лесу,  
Ухает, как разбойник,  
Люди его боятся,  
А он людей боится.

---

2. Назови свойство воды, благодаря которому видно дно чашки.

---

3. Закончи предложения.

а) Самая маленькая в мире птица — \_\_\_\_\_.

б) Самое крупное и сильное наземное млекопитающее — \_\_\_\_\_.

в) Самое крупное водное млекопитающее — \_\_\_\_\_.

г) Самый быстрый зверь — \_\_\_\_\_.

д) Самая крупная птица, которая не умеет летать — \_\_\_\_\_.

4. К какому виду транспорта относится теплоход?

а) подземный

в) наземный

б) воздушный

г) водный

5. Выдели объект живой природы.

а) солнце

в) камень

д) дерево

б) вода

г) радуга

е) гора

6. Кто где живёт? Соедини.

белка

гнездо

ворона

нора

барсук

дупло

7. Восстанови цепь питания.

пшеница → \_\_\_\_\_ → лисица

8. Что такое межпланетная станция?

- а) кабина космического корабля, которая возвращается из космоса на Землю
- б) космический дом, который постоянно летает вокруг Земли, в котором космонавты работают по многу месяцев
- в) автоматическое устройство для изучения планет

9. К хищникам относится...

- а) синица
- б) воробей
- в) коршун

10. Выбери правильное утверждение.

- а) ноль градусов — это отсутствие температуры воздуха
- б) ноль градусов — это самая низкая температура воздуха
- в) ноль градусов — это граница между градусами тепла и холода

1. Отгадай загадку, запиши отгадку.

Шапочка серенькая,  
Жилеточка нетканая,  
Кафтанчик рябенький,  
А ходит босиком.

2. Соедини названия растений и изделия из них.

хлопок

сахар

сосна

одежда

свёкла

дом

3. Какую птицу нельзя увидеть зимой в дикой природе?

а) лебедя

в) синицу

б) сороку

4. Что такое погода?

а) дождь или снег

б) холодно на улице или тепло

в) сочетание температуры воздуха, облачности, осадков, ветра

г) небо ясное или пасмурное

5. Укажи группу, в которой перечислены деревья.

а) яблоня, груша, вишня

б) горох, малина, клубника

в) рожь, кукуруза, пшеница

6. Для чего нужно есть овощи и фрукты?
- а) для удовольствия
  - б) для тренировки жевательных мышц
  - в) в них много полезных веществ
7. Укажи группу, в которой перечислены весенние явления в неживой природе.
- а) появление первых цветов, возвращение перелётных птиц
  - б) половодье, ледоход
  - в) рост травы, появление первых листьев
8. Что такое ракета-носитель?
- а) космическая станция, на которой космонавты работают
  - б) космическая ракета, на которой космонавты облетают вокруг Земли
  - в) космическая ракета, выводящая на орбиту космический корабль
9. Укажи группу, в которой перечислены неаквариумные рыбки.
- а) меченосец, данио рерио
  - б) сомик, макопод
  - в) осётр, сом
10. Какие птицы летают быстрее всех?
- а) утки и чайки
  - б) соколы и ястребы
  - в) курицы и индюшки

1. Отгадай загадку, запиши отгадку.  
 И ушаст, и глазасть,  
 И пугаться горазд.  
 Заберётся в куст — и спит.  
 Кочерыжку съест — и сыт.
- 
2. Как нужно брать утюг?  
 а) только за глядящую поверхность  
 б) только за ручку  
 в) только за корпус  
 г) только за шнур
3. Укажи группу, в которой перечислены весен-  
 ние сезонные явления в неживой природе.  
 а) ледостав, пересыхание рек  
 б) таяние снега, первая гроза  
 в) последняя гроза, день становится короче
4. Сколько ног у млекопитающих?  
 а) 2  
 б) 6  
 в) 4 или 2  
 г) 8
5. Укажи водоплавающих птиц.  
 а) голубь  
 б) ласточка  
 в) гусь  
 г) соловей  
 д) цапля  
 е) лебедь
6. Почему зимой в лесу тихо?



7. Соедини названия растений с группами, к которым они относятся.

ель

смородина

осина

одуванчик

земляника

жасмин

деревья

кустарники

травы

8. Что общего у облаков и тумана?
- а) они белого цвета
  - б) холодные и мокрые на ощупь
  - в) состоят из крохотных капелек воды
9. Какая из перечисленных машин не относится к специальному транспорту?
- а) маршрутное такси
  - б) машина скорой помощи
  - в) пожарная машина
  - г) полицейская машина
10. Расположи по порядку уменьшения территории.
- |                                 |                                  |
|---------------------------------|----------------------------------|
| <input type="checkbox"/> Земля  | <input type="checkbox"/> Евразия |
| <input type="checkbox"/> Россия | <input type="checkbox"/> область |
| <input type="checkbox"/> город  | <input type="checkbox"/> улица   |

1. Отгадай загадку, запиши отгадку.

Мать, отца не знаю,  
Но часто называю,  
Детей знать не буду,  
Чужим сбуду.

---

2. Укажи «лишнее» растение.

- |                 |           |
|-----------------|-----------|
| а) бальзамин    | в) берёза |
| б) традесканция | г) фуксия |

3. Выдели предмет живой природы.

- |           |           |
|-----------|-----------|
| а) радуга | в) солнце |
| б) облака | г) птицы  |

4. Узнай и запиши время года по описанию.

Наступили самые большие каникулы. Припекает жаркое солнышко. На лесной полянке прячутся душистые ягоды земляники.

---

5. Как называют жителей села?

- |                |             |
|----------------|-------------|
| а) горожане    | в) граждане |
| б) деревенские | г) сельчане |

6. Как называется жук, носящий название месяца?

---

7. Какой из перечисленных кормов вреден для птиц при подкормке их человеком?
- а) семена растений
  - б) хлеб
  - в) сало солёное
  - г) сало несолёное

8. Укажи, в каком месяце это бывает.

февраль

дети на пляже загорают и играют в мяч

апрель

дети под зонтом идут среди падающих листьев

октябрь

дети любят подснежниками

июль

дети катаются с горы на санках и лыжах

9. Запиши название растения, которое переводится как «трилистник».
- 

10. Из каких частей состоят холм и гора?
- а) нижняя часть, средняя часть, верхняя часть
  - б) подошва (подножье), склон, вершина
  - в) подошва (подножье), крутой склон, пологий склон, вершина
  - г) начало, середина, конец

1. Отгадай загадку, запиши отгадку.

— Расселась барыня на грядке,  
Одета в шумные шелка.  
Мы для неё готовим кадки  
И крупной соли полмешка.

---

2. Какая площадь находится у стен Кремля?

а) Соборная

в) Калужская

б) Красная

г) Арбатская

3. Что не относится к грузовому транспорту?

а) грузовик

б) товарный поезд

в) электричка

г) танкер для перевозки нефти

4. Укажи группу, в которой перечислены травянистые растения.

а) яблоня, смородина, крыжовник

б) укроп, рожь, рис

в) малина, слива, груша

5. Пронумеруй цвета, образующие радугу.

оранжевый

синий

фиолетовый

жёлтый

красный

голубой

зелёный

6. Запиши свойство воды, благодаря которому мы можем её пить.

---

7. Что такое карта?

- а) рисунок земной поверхности
- б) вид земли сверху
- в) уменьшенное изображение земной поверхности на плоскости с помощью условных знаков

8. Какую службу можно вызвать по телефону набрав 02?

- а) пожарную охрану
- б) скорую помощь
- в) полицию
- г) службу газа

9. Дополни столбики названиями животных.

крот
волк

лошадь
собака

Слова для справок: лиса, белка, кот, корова.

10. Запиши, почему водоплавающие птицы не зимуют рядом с нами?

---

---

1. Отгадай загадку. Запиши название лекарственного растения.

Растёт лекарство под ногами.  
Прошу вас, убедитесь сами.  
Кладём на ссадину листочек,  
И ссадина не кровоточит.

---

2. На какой реке стоит Санкт-Петербург?

а) на Лене

в) на Енисее

б) на Неве

г) на Оке

3. Укажи «лишнее» слово.

а) сокол

в) пчела

б) петух

г) цапля

4. К комнатным растениям относятся...

а) клевер

г) незабудка

б) герань

д) кактус

в) одуванчик

е) пион

5. Что спасает лису от зимней стужи?

а) острый слух

б) тёплый мех

в) умение быстро бегать

6. Запиши слово **пшеница** в нужный столбик.

часть природы

изделие

7. Закончи предложение.

Почва, горы, осадки, облака, воздух —  
\_\_\_\_\_ природа.

8. Какая птица носит фамилию известного русского писателя?

а) журавль

г) королёк

б) гоголь

д) страус

в) колибри

е) воробей

9. Отгадай загадку, запиши отгадку.

Говорят один рыбак  
В речке выловил башмак,  
Но зато ему потом  
На крючок попался...

10. Допиши животное в каждую группу.

а) окунь, ёрш, \_\_\_\_\_

б) черепаха, ящерица, \_\_\_\_\_

1. Отгадай загадку, запиши отгадку.

В одежде богатой, да сам слеповатый.  
Живёт без оконца, не видал солнца.

---

2. Какой музей находится на Красной площади?

- а) музей археологии
- б) Политехнический
- в) Зоологический
- г) Исторический

3. Укажи группу, в которой перечислены продукты растительного происхождения.

- а) мясо, сливочное масло
- б) молоко, рыба, колбаса
- в) петрушка, свёкла, гречка
- г) котлета, брынза, сливки

4. Найди и отметь растение, которое не является комнатным.

- |                 |            |
|-----------------|------------|
| а) кактус       | г) герань  |
| б) бальзамин    | д) астра   |
| в) традисканция | е) василёк |

5. Укажи ягодные растения.

- |             |             |
|-------------|-------------|
| а) груша    | г) вишня    |
| б) брусника | д) виноград |
| в) лещина   | е) жёлудь   |



6. Какие птицы ночуют, зарываясь в снег?
- а) куропатки
  - б) тетерева
  - в) рябчики
  - г) клесты
7. Как называется модель Земли?
- 
8. Какое дерево цветёт до распускания листьев?
- а) верба
  - б) тополь
  - в) осина
  - г) берёза
9. Назови столицу Японии.
- а) Лондон
  - б) Париж
  - в) Дели
  - г) Токио
10. Выдели то, что относится к учебному труду.
- а) посещение музея по теме урока
  - б) прогулка по парку
  - в) завтрак между уроками
  - г) рисунки на асфальте

1. Отгадай загадку, запиши отгадку.

Круглый, полосатый,  
С огорода взятый,  
Сахарный и алый стал —  
Кушайте, пожалуйста.

---

2. Выдели объект неживой природы.

а) птица

в) туча

б) рыба

г) ёж

3. Впиши недостающие слова.

Клёт питается \_\_\_\_\_ из еловых  
шишек и кормит \_\_\_\_\_ своих птенцов.

4. Название какого зверя добавлено к названию жука?

а) волк

в) олень

б) лев

г) медведь

5. Укажи «лишний» гриб.

а) боровик

в) лисичка

б) мухомор

г) грузди

6. Какое из растений не цветёт летом?

а) василёк луговой

б) герань лесная

в) цикорий

г) мать-и-мачеха

---

7. Отгадай загадку, запиши отгадку.

Пусть я птичка-невеличка,  
У меня, друзья, привычка —  
Как начнутся холода,  
Прямо с севера сюда.

---

8. Что такое равнины?

а) абсолютно ровные участки земли

б) специально выровненные участки

в) ровные или почти ровные участки зем-  
ной поверхности

9. Подчеркни домашних животных.

индюк

кролик

орёл

кошка

ворона

таракан

муха

мышь

петух

10. Какой собор находится в Санкт-Петербурге?

а) Исаакиевский собор

б) Покровский собор

в) Успенский собор

1. Отгадай загадку, запиши отгадку.

Неказиста, шишковата,  
А придёт на стол она,  
Скажут весело ребята:  
«Ну, рассыпчата, вкусна!»

---

2. Где на карте расположены запад и восток?

- а) запад слева, восток справа
- б) запад справа, восток слева
- в) запад вверху, восток внизу
- г) запад внизу, восток вверху

3. Что такое ветер?

- а) качание деревьев
- б) движение воздуха
- в) передвижение облаков

4. Отметь животное, которое не обитает в верхнем слое земли.

- |         |                |
|---------|----------------|
| а) лиса | в) крот        |
| б) мышь | г) майский жук |

5. Выдели явления природы.

- |             |            |
|-------------|------------|
| а) дождь    | г) рассвет |
| б) солнце   | д) снег    |
| в) снегопад | е) вода    |

6. Закончи предложения об осенних изменениях в живой природе.

Осенью листья на деревьях и кустарниках \_\_\_\_\_ . Не изменяют окраску листьев \_\_\_\_\_ . Они по-прежнему стоят \_\_\_\_\_ .

7. Укажи среди растений «лишнее».

а) амариллис

в) пеларгония

б) фикус

г) лиственница

8. Восстанови последовательность развития бабочки.

яйцо → личинка → \_\_\_\_\_ → бабочка

а) малёк

б) головастик

в) куколка

9. Сколько башен вокруг Московского Кремля?

а) 10

б) 20

в) 15

10. Назови группы перечисленных животных.

а) собака, тигр, кенгуру — это \_\_\_\_\_

б) курица, ворона, пингвин — это \_\_\_\_\_

в) ёрш, окунь, акула — это \_\_\_\_\_

1. Каким термометром измеряют температуру человеческого тела?

- а) водным
- б) медицинским
- в) домашним
- г) уличным

2. Почему горные породы так называются?

- а) встречаются только в горах
- б) легко увидеть в горах
- в) можно увидеть только с большой высоты

3. Что нужно ответить, если ты получил приглашение в гости?

- а) приду
- б) не приду
- в) спасибо
- г) пожалуйста

4. По какому главному признаку можно определить плод?

- а) наличие семян
- б) отсутствие семян
- в) тонкая кожица
- г) плотная мякоть

5. Запиши предметы в два столбика.

Расчёска, клещи, маникюрные ножницы, молоток, зубная щётка, пила.


6. Укажи млекопитающее.
- а) черепаха
  - б) лягушка
  - в) мышь
7. Плоды какого растения похожи на парашютики?
- а) липы
  - б) одуванчика
  - в) дуба
  - г) яблони
8. Укажи «лишнее» слово.
- а) солнце
  - б) лебеди
  - в) деревья
  - г) ящерица
9. Как выглядит Луна с Земли?
- а) выпуклой
  - б) плоской
  - в) как небольшой шар
  - г) как огромный шар
10. В каком варианте перечислены только предметы неживой природы?
- а) земля, скамейка, вода
  - б) дуб, человек, воробей
  - в) берёза, облако, собака
  - г) микроскоп, хлеб, медведь

1. Отгадай загадку, запиши отгадку.

Вдоль лесных дорожек  
 Много белых ножек.  
 В шляпках разноцветных,  
 Издали приметных.  
 Собирай, не мешкай. Это...

---

2. Назови пространство, в котором находятся звёзды и наша Солнечная система.
- 

3. Допиши по одному животному в каждую группу.

а) канарейка, щегол, \_\_\_\_\_

б) тритон, лягушка, \_\_\_\_\_

4. Укажи столицу Франции.

а) Вашингтон

в) Леон

б) Лондон

г) Париж

5. Укажи, какой зверь самый крупный хищник на земле.

а) кабан

в) рысь

б) белый медведь

г) тигр

6. Как называется птичий домик?

а) гнездо

в) нора

б) кормушка

г) дупло



7. Укажи, где какое растение растёт.

ель

сад

черешня

поле

василёк

лес

8. Укажи домашнее животное.

а) бобёр

в) телёнок

б) кабан

г) волк

9. Какой регион является родиной картофеля?

а) Мексика

б) Россия

в) Южная Америка

10. Назови одним словом данные предметы.

а) пальто, платье, джинсы — \_\_\_\_\_

б) чашка с блюдцем, стопка тарелок, чайник — \_\_\_\_\_

в) стол, диван, шкаф — \_\_\_\_\_

1. Отгадай загадку, запиши отгадку.  
 Сколько важности в походе!  
 По пустыне-сковородке,  
 По колючкам босиком  
 Кто идёт с горбом-мешком?

---

2. Укажи название дикого животного.
 

а) конь	в) курица
б) заяц	г) овца
3. Укажи «лишнее» слово.
 

а) помидор	г) морковь
б) вишня	д) арбуз
в) лимон	е) орех
4. Что такое торговля?
  - а) производство товаров
  - б) покупка и продажа товаров
  - в) перевозка товаров
  - г) хранение товаров
5. О каком времени года написано в стихотворении А. Фета?
 

Поля без стад, леса унылы,  
 Ни скудных листьев, ни травы.  
 Не узнаю растущей силы  
 В алмазных признаках листвы...

6. Как звали русского купца, который пять веков назад побывал в Индии?

- а) Ермак Тимофеевич
- б) Афанасий Никитин
- в) Садко
- г) Степан Разин

7. Соедини животных с местами их обитания.

курица

лес

лиса

пустыня

верблюд

водоём

лебедь

птичий двор

8. Какое животное относится к земноводным?

- а) змея
- б) тритон
- в) черепаха

9. С помощью какого органа человек дышит?

- а) сердце
- б) лёгкие
- в) печень
- г) мозг

10. В каком месяце зимой особенно часто метут метели?

- а) в январе
- б) в декабре
- в) в марте
- г) в феврале

1. Отгадай загадку, запиши отгадку.

Пузатый, носатый  
На печке сопел.  
Потом вдруг нечаянно  
Песню запел.

---

2. Как зимой поднимается Солнце над горизонтом по сравнению с осенью?

- а) так же, как осенью
- б) ниже, чем осенью
- в) выше, чем осенью

3. Запиши название «огнедышащей горы».

---

4. Укажи, какие животные к какой группе относятся.

ворона

кошка

бурундук

**домашние животные**

волк

рысь

**дикие животные**

осёл

курица

коза

5. Какое транспортное средство нужно обходить спереди?

- а) трамвай
- б) автобус
- в) троллейбус

6. Укажи группу, в которой перечислены зерновые культуры.
- а) яблоня, астра, вишня
  - б) овёс, пшеница, рожь
  - в) свёкла, помидор, лук
7. Кто является основателем Санкт-Петербурга?
- а) Пётр I
  - б) Иван Грозный
  - в) Юрий Долгорукий
8. Укажи «лишнее» слово.
- а) бабочка
  - б) радуга
  - в) черепаха
  - г) пшеница
9. У какой птицы мешок под клювом?
- а) у грифа
  - б) у страуса
  - в) у пеликана
  - г) у альбатроса
10. Укажи лиственные растения.
- а) берёза
  - б) одуванчик
  - в) лиственница
  - г) шиповник
  - д) сосна

## ОТВЕТЫ

### Вариант 1

1. в. 2. б. 3. в. 4. а) яблоня; б) астра; в) черника.  
5. б. 6. в. 7. сова. 8. г. 9. б. 10. тыква.

### Вариант 2

1. колибри. 2. б. 3. в. 4. в. 5. а) 2 ноги, 6 ног;  
б) 2 крыла, 2 или 4 крылышка. 6. б. 7. бобёр. 8. г.  
9. г. 10. а.

### Вариант 3

1. б. 2. г. 3. а) паук; б) рак. 4. это твёрдые вещества.  
5. а) бык; б) баран, ягнёнок; в) курица, петух. 6. мыло.  
7. в. 8. индюк. 9. а. 10. у пеликана.

### Вариант 4

1. сом. 2. весной, когда течёт берёзовый сок. 3. г. 4. г.  
5. экватор. 6. полотенце. 7. в дуплах живут птицы. в/в.  
8. а. 9. сахар. 10. д.

### Вариант 5

1. в. 2. а. 3. в. 4. б. 5. кузнечик. 6. б. 7. в. 8. а, в.  
9. а, в, д, е. 10. одуванчик.

### Вариант 6

1. медведи — накапливают жир; бобры — ветки деревьев;  
мыши — зерно; белки — грибы; пчёлы — мёд. 2. в.  
3. в. 4. в. 5. в. 6. б. 7. а. 8. щётка для чистки обуви.  
9. г. 10. а.

### Вариант 7

1. в. 2. в. 3. в. 4. б, в. 5. б. 6. а. 7. светофор. 8. в.  
9. б. 10. г.

### Вариант 8

1. петух. 2. б, г. 3. а) свинья; б) конь, жеребёнок;  
в) утка, утёнок. 4. а. 5. в. 6. крокодил. в/в. 7. шершавый—осязание; красный—зрение; резкий запах—обоняние;  
тихий—слух; кислый—вкус. 8. лягушка. 9. б. 10. в.

### Вариант 9

1. горизонт. 2. пространство — север, верх, налево, вос-  
ток, юго-запад, назад, вниз; время — час, месяц, неде-  
ля, секунда, год. 3. г. 4. жук. 5. б. 6. 1 а), 2 б). 7. в.  
8. г. 9. закаливание. 10. г.

### Вариант 10

1. в. 2. зайчат, родившихся осенью. 3. в. 4. г. 5. г.  
6. а. 7. б. 8. б. 9. в. 10. паук.

### Вариант 11

1. снегири. 2. г. 3. а. 4. б. 5. в. 6. а. 7. в. 8. кошка.  
9. физиология. 10. а.

### Вариант 12

1. в. 2. а) паук; б) рак. 3. вода. 4. в. 5. г. 6. а. 7. г.  
8. в. 9. у рыси. 10. мать-и-мачеха.

### Вариант 13

1. зеркало. 2. а. 3. в. 4. г. 5. а. 6. в. 7. у клестов.  
8. в. 9. б. 10. б.

### Вариант 14

1. а. 2. в. 3. лёд. 4. паукообразные: паук-крестовик, паук-птицеед, скорпион; насекомые: богомол, кузнечик, муха, оса, бабочка-белянка. 5. б. 6. 1 а); 2 а). 7. б.  
8. г. 9. а. 10. б, в.

### Вариант 15

1. лёд. 2. личная гигиена — расчёска, мочалка, зубная щётка, полотенце; гигиена для всей семьи — щётки для одежды и обуви, мыло, шампунь, паста, крем для обуви.  
3. г. 4. б. 5. г. 6. в. 7. а. 8. а. 9. б. 10. вода.

### Вариант 16

1. ветер. 2. рельеф. 3. б. 4. б. 5. б. 6. в. 7. г. 8. а.  
9. в. 10. в.

### Вариант 17

1. б. 2. б; белый, синий, красный. 3. г. 4. д. 5. в.  
6. б. 7. г. 8. б. 9. а. 10. б, е.

### Вариант 18

1. муравей. 2. у снегиря. 3. б. 4. она выделяет едкую жидкость. в/в. 5. в. 6. варана. 7. в. 8. в. 9. в. 10. в, д.



### Вариант 19

1. лягушка. 2. в, е. 3. параллель. 4. б. 5. б. 6. в.  
7. в. 8. в. 9. а. 10. в.

### Вариант 20

1. г. 2. г. 3. б. 4. в. 5. мороз. 6. салат. 7. а. 8. б.  
9. насекомые. 10. б.

### Вариант 21

1. компас. 2. стекло. 3. б, г. 4. д. 5. в. 6. г.  
7. ... птиц; ... насекомых. 8. б. 9. а. 10. а.

### Вариант 22

1. коза. 2. б. 3. укрепляет берег своими корнями. в/в.  
4. весна. 5. г. 6. от голода. 7. в, г. 8. в. 9. б. 10. ко-  
рень, стебель (ствол), листья, цветы, плоды, семена.

### Вариант 23

1. г. 2. а. 3. в. 4. г, е. 5. берёза; сосна. в/в. 6. б.  
7. а, г. 8. боровик. 9. в. 10. б.

### Вариант 24

1. солнцем; солнечное. 2. озеро. 3. в. 4. гигиена. 5. б.  
6. б. 7. осень. 8. в. 9. а. 10. в.

### Вариант 25

1. б, г. 2. а, е. 3. б. 4. а. 5. а. 6. в. 7. д. 8. вер-  
блюд — пустыня, треска — водоём, лисица — лес. 9. в.  
10. г.

### Вариант 26

1. грач. 2. а. 3. б. 4. б. 5. снег. 6. г. 7. б. 8. утка, капуста. в/в. 9. холоднее. 10. б.

### Вариант 27

1. б. 2. в. 3. а. 4. а) конюшня; б) гнездо; в) хатка; г) муравейник. 5. лягушка. в/в. 6. б, д. 7. синица. 8. в. 9. у паука — 8 ног, а у насекомых — 6 ног. 10. гейзер.

### Вариант 28

1. филин. 2. прозрачность. 3. а) колибри; б) слон; в) кит; г) гепард; д) страус. 4. г. 5. д. 6. белка — дупло, ворона — гнездо, барсук — нора. 7. мышь. 8. б. 9. в. 10. в.

### Вариант 29

1. ворона. 2. хлопок — одежда; сосна — дом; свёкла — сахар. 3. а. 4. в. 5. а. 6. в. 7. б. 8. в. 9. в. 10. б.

### Вариант 30

1. заяц. 2. б. 3. б. 4. в. 5. в, е. 6. отсутствие певчих птиц. в/в. 7. деревья: ель, осина; кустарники: смородина, жасмин; травы: одуванчик, земляника. 8. в. 9. а. 10. 1) Земля, 2) Евразия, 3) Россия, 4) область, 5) город, 6) улица.

### Вариант 31

1. кукушка. 2. в. 3. г. 4. лето. 5. г. 6. майский. 7. в. 8. июль, октябрь, апрель, февраль. 9. клевер. 10. б.

### Вариант 32

1. капуста.
2. б.
3. в.
4. б.
5. 2, 7, 1, 4, 6, 3, 5.
6. текучесть.
7. в.
8. в.
9. лиса, белка; кот, корова.
10. водоёмы замерзают, нет пищи. в/в.

### Вариант 33

1. подорожник.
2. б.
3. в.
4. б, д.
5. в.
6. часть природы — пшеница.
7. это неживая природа.
8. гоголь.
9. сом.
10. а) карась; б) крокодил. в/в.

### Вариант 34

1. крот.
2. г.
3. в.
4. д, е.
5. б, г, д.
6. б.
7. глобус.
8. а.
9. г.
10. а.

### Вариант 35

1. арбуз.
2. в.
3. Клёт питается семенами из еловых шишек и кормит кашницей своих птенцов.
4. в.
5. б.
6. г.
7. снегирь.
8. в.
9. индюк, кролик, кошка, петух.
10. а.

### Вариант 36

1. картошка.
2. а.
3. б.
4. а.
5. а, в.
6. желтеют; ели и сосны; зелёные.
7. г.
8. в.
9. б.
10. млекопитающие, птицы, рыбы.

### Вариант 37

1. б.
2. а.
3. в.
4. а.
5. предметы личной гигиены — расчёска, маникюрные ножницы, зубная щётка; инструменты — клещи, молоток, пила.
6. в.
7. б.
8. а.
9. б.
10. а.

### **Вариант 38**

**1.** сыроежка. **2.** космос. **3.** а) синица, б) жаба. в/в. **4.** г.  
**5.** б. **6.** а. **7.** ель — лес, черешня — сад, василёк — поле. **8.** в. **9.** в. **10.** а) одежда; б) посуда; в) мебель.

### **Вариант 39**

**1.** верблюд. **2.** б. **3.** г. **4.** б. **5.** об осени. **6.** б. **7.** курица — птичий двор, лиса — лес, верблюд — пустыня, лебедь — водоём. **8.** б. **9.** б. **10.** г.

### **Вариант 40**

**1.** чайник. **2.** б. **3.** вулкан. **4.** домашние животные: курица, осёл, коза, кошка; дикие животные: бурундук, рысь, ворона, волк. **5.** а. **6.** б. **7.** а. **8.** б. **9.** в. **10.** г.

*Учебное издание*

**Орг Александр Оскарович  
Белицкая Наталия Георгиевна**

**Олимпиады  
по предмету «Окружающий мир»  
2 класс**

Издательство «ЭКЗАМЕН»

Гигиенический сертификат  
№ РОСС RU. АЕ51. Н 15295 от 13.04.2011 г.

Главный редактор *Л.Д. Лапто*

Редактор *М.А. Козлова*

Технический редактор *Т.В. Фатюхина*

Художественный редактор *Л.В. Демьянова*

Корректор *И.В. Русанова*

Дизайн обложки *М.Н. Ершова*

Компьютерная верстка *М.В. Дёмина*

105066, Москва, ул. Нижняя Красносельская, д. 35, стр. 1.

[www.examen.biz](http://www.examen.biz)

E-mail: по общим вопросам: [info@examen.biz](mailto:info@examen.biz);

по вопросам реализации: [sale@examen.biz](mailto:sale@examen.biz)

тел./факс 641-00-30 (многоканальный)

Общероссийский классификатор продукции  
ОК 005-93, том 2; 953005 — книги, брошюры, литература учебная

Отпечатано в соответствии с предоставленными материалами  
в ЗАО «ИПК Парето-Принт», г. Тверь, [www.pareto-print.ru](http://www.pareto-print.ru)

**По вопросам реализации обращаться по тел.:**  
**641-00-30 (многоканальный).**